





## Mathematik Klasse 5

### Knobelaufgabe der Woche vom 25.04 – 02.05.08

- 1.) Karin, Julia, Miriam und Sandra sind Freundinnen. Die Mädchen wohnen in der Albertgasse, der Bahnhofstraße, der Charlottenallee und dem Dohlenweg. In welcher Straße wohnt jede, wenn folgende Bedingungen gelten:
- Eines der Mädchen mit fünf Buchstaben im Vornamen wohnt in der Charlottenallee.
  - Julia war am letzten Sonntag zu Besuch bei ihrer Freundin in der Charlottenallee, sie wird am nächsten Wochenende bei ihrer Freundin in der Albertgasse sein.
  - Miriam geht gerne mit ihren Freundinnen aus der Albertgasse und dem Dohlenweg zusammen schwimmen.

Albertgasse	Bahnhofstraße	Dohlenweg	Charlottenallee
			

- 2.) Wie kann man mit einem 6-Liter-Eimer und einem 10-Liter-Eimer aus einer genügend großen Regenwassertonne durch geschicktes Umfüllen 2 Liter Wasser abmessen?

