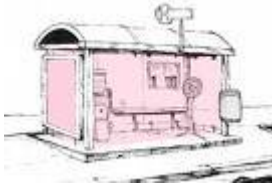


Mathematik Klasse 5: Knobelaufgaben der Woche vom 18.04 – 25.04

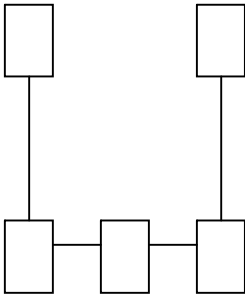


1. Aufgabe

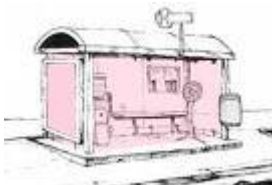
An der Goethe-Allee gibt es in Richtung Bahnhof 9 Bushaltestellen, jeweils in etwa gleichem Abstand zueinander. Man weiß, dass es von der 2. bis zur 6. Haltestelle ziemlich genau 1200 m sind. Wie weit ist es von der 1. bis zur 9. Haltestelle?

2. Aufgabe

Trage die natürlichen Zahlen 1 bis 5 so in die U-Figur ein, dass die Summe der Zahlen senkrecht und waagrecht auf den geradlinigen Buchstabenabschnitten immer 6 beträgt.



Mathematik Klasse 5: Knobelaufgaben der Woche vom 18.04 – 25.04



1. Aufgabe

An der Goethe-Allee gibt es in Richtung Bahnhof 9 Bushaltestellen, jeweils in etwa gleichem Abstand zueinander. Man weiß, dass es von der 2. bis zur 6. Haltestelle ziemlich genau 1200 m sind. Wie weit ist es von der 1. bis zur 9. Haltestelle?

2. Aufgabe

Trage die natürlichen Zahlen 1 bis 5 so in die U-Figur ein, dass die Summe der Zahlen senkrecht und waagrecht auf den geradlinigen Buchstabenabschnitten immer 6 beträgt.

